





1：下記の円を左は黒、右は白の球体として陰影を付けて立体的に表現しなさい。



2：アドバイスをもとに下記の円を左は黒、右は白の球体として陰影を付けて立体的に表現しなさい。



3：下記の正方形を左は立方体、右は円柱として陰影を付けて立体的に表現しなさい。

